



Freie Universität Bozen  
Libera Università di Bolzano  
Università Lìedia de Bulsan

**Laurea magistrale a ciclo unico  
in Scienze della Formazione Primaria**

**Esame di ammissione 2021/2022**

**FASCICOLO DOMANDE  
SEZIONE ITALIANA**

Bressanone, 21 luglio 2021

## COMPETENZA LINGUISTICA E RAGIONAMENTO LOGICO

### Testo n. 1 La conchiglia

Era maggio e, dal momento che ero in pratica disoccupato, avevo proposto a mio fratello di lanciarsi in una di quelle che chiamavamo "le nostre esplorazioni", come ai bei tempi, approfittando di un giorno in cui nemmeno al porto c'era lavoro. Di buon mattino eravamo partiti da Avenue Malick-Sy a bordo di una vecchia corriera diretta alla Petite Côte, una regione a sud di Dakar dove non eravamo mai stati. Dicevano che fosse molto bella. Scendemmo a Joal e cominciammo a camminare fra le sue vecchie case e le palme di cocco, poi per un terreno inaridito su cui crescevano imponenti baobab. Lungo la riva del mare si elevavano strani cumuli bianchi, grandi come palazzi. «È sabbia?» chiese Semba. «Andiamo a vedere.» Non era sabbia, erano montagne di conchiglie ammassate, secolo dopo secolo, dalla gente che era vissuta là. Sembrava che recassero ancora le impronte degli uomini delle età passate, come se su quelle superfici levigate, fra quelle scaglie dure e lisce fosse scivolata tutta la storia del nostro popolo. Provai malinconia a quel pensiero e all'idea del motivo per cui mi trovavo lì, ma mi sforzai di vincerla.

«Non staremo qui tutto il giorno a contare conchiglie, no?» dissi. «Forza, noleggiamo una piroga e raggiungiamo l'isola di Fadiouth, qui davanti.» Attraversammo il breve tratto di mare e raggiungemmo Fadiouth, un'isoletta che poggiava su cumuli sommersi di conchiglie. Facemmo una lunga nuotata, pregammo rivolti verso est, poi rimanemmo sdraiati in cima a una duna sabbiosa a mangiare le patate dolci che avevamo portato da casa e a guardare i pescatori sulla riva, che sistemavano le reti nelle piroghe.

A un tratto Semba vide qualcosa che brillava a poca distanza sulla sabbia e corse a raccoglierla. Era una grossa conchiglia rosa pallido dalla forma tormentata, che si accostò all'orecchio. Poi me la tese. «Prendila, è tua. Portala con te dove andrai, ne avrai bisogno. E se ti senti solo ascoltalà. Fa' conto di sentirci dentro tutte le voci dell'Africa.»

[da Micheletti, P.A. & Moussa Ba, S. (1991). *La promessa di Hamadi*. Milano: De Agostini]

**Domanda 1:** Il protagonista propone al fratello questo viaggio perché...

1.  non avendo lavoro non sa che fare.
2.  ama conoscere nuovi posti.
3.  cerca un paesaggio speciale per parlare con il fratello.
4.  vuole andare a vedere i baobab.

**Domanda 2:** Il primo paragrafo del testo...

1.  sottintende una preoccupazione del protagonista.
2.  descrive un'esplorazione.
3.  racconta un viaggio in corriera.
4.  descrive un luogo.

**Domanda 3:** Come raggiungono l'isola i ragazzi?

1.  Attraversando a nuoto il breve tratto.
2.  Con una piccola imbarcazione a noleggio.
3.  A piedi approfittando della bassa marea.
4.  Con un regolare traghetto di linea.

**Domanda 4:** Che significato ha la conchiglia per Semba?

1.  È un semplice souvenir della gita sull'isola.
2.  È un portafortuna per il fratello.
3.  È un oggetto che si può scambiare con denaro.
4.  È un oggetto da lanciare in mare per gioco.

## Testo n. 2 La scuola di Malala

Il giorno in cui tutto era cambiato era martedì 9 ottobre 2012: di certo non il giorno migliore, dato che eravamo sotto esami, anche se io, da vera secchiona, non ero preoccupata quanto le mie compagne. Quella mattina raggiungemmo lo stretto vicolo fangoso vicino a Haji Baba Road con la solita processione di riscio variopinti sputacchianti diesel bruciato, ognuno carico di cinque o sei ragazzine. Da quando i talebani erano saliti al potere la nostra scuola non aveva un'insegna, e la porta in ottone decorato che spiccava nel muro bianco di fronte al deposito di una segheria non lasciava intravedere nulla di ciò che accadeva all'interno.

Per noi ragazze quella porta era come una magica soglia che portava al nostro mondo speciale. Appena entrate, ci toglievamo subito il velo, come quando un soffio di vento spazza via le nuvole per fare posto al sole, poi correvamo su per la scala saltando i gradini due a due. In cima alla scala c'era una terrazza su cui si aprivano le porte delle aule: buttavamo per terra gli zaini nelle classi e ci preparavamo per l'adunata mattutina all'aperto, sull'attenti, con le montagne alle nostre spalle. Una delle alunne gridava: "Assaan bash!", cioè "Riposo!", e noi battevamo i tacchi rispondendo: "Allah!". Poi lei diceva: "Hoo she yar!", "Attenti!", e noi battevamo di nuovo i tacchi ripetendo: "Allah!".

La scuola era stata fondata da mio padre prima che io nascessi, e sul muro sopra le nostre teste sveltava, ancora, in orgogliosi caratteri bianchi e rossi, la scritta KHUSHAL SCHOOL. Avevamo lezione sei mattine alla settimana e io, avendo quindici anni, ero iscritta alla nona classe: durante le lezioni ripetevamo formule chimiche e studiavamo la grammatica urdu, scrivevamo brevi racconti in inglese – che terminavano spesso con morali tipo: "Presto e bene non stanno insieme" – e disegnavamo diagrammi della circolazione sanguigna (la maggior parte delle mie compagne sognava di diventare medico).

[da: Yousafzai, M. con Lamb, C. (2014). *Io sono Malala. La mia battaglia per la libertà e l'istruzione delle donne*. Milano: Garzanti, p. 10]

**Domanda 5:** Perché Malala non è preoccupata il 9 ottobre 2012?

1.  Non le importa della scuola e degli esami.
2.  È molto intelligente, sveglia e perspicace.
3.  Ha un carattere sicuro e determinato.
4.  Da vera secchiona si è preparata bene per gli esami.

**Domanda 6:** Come raggiunge la scuola Malala?

1.  Con un piccolo mezzo a motore.
2.  Con uno scuolabus elettrico per sole ragazze.
3.  Con un gruppo di compagne a piedi.
4.  In macchina con il padre e le amiche.

**Domanda 7:** Dove conduce la porta d'ottone?

1.  In una scuola pubblica.
2.  In una scuola segreta.
3.  In un mondo immaginario.
4.  In una scuola coranica.

**Domanda 8:** Quali materie si studiano nella nona classe?

1.  Chimica, urdu, inglese e disegno.
2.  Chimica, urdu, inglese e scienze.
3.  Chimica, urdu, inglese e statistica.
4.  Chimica, matematica, inglese e scienze.

### Testo n. 3 Il primo giorno di scuola di Pippi Calzelunghe

Pippi si buttò a sedere in un banco libero, senza che alcuno glielo avesse assegnato, ma la maestra non sembrò notare la sua maniera sgangherata d'agire. Disse soltanto, in tono estremamente amichevole: – Benvenuta a scuola, piccola Pippi! Spero proprio che tu ti ci troverai bene e imparerai tante belle cose. – Tutto questo è giusto, ma io spero invece di avere le vacanze natalizie che mi spettano – disse Pippi. – I diritti innanzitutto. – Se vorrai esser così cortese da dirmi qual è il tuo vero nome, – disse la maestra – io lo scriverò nel registro di classe. – Mi chiamo Pippilotta Pesanella Tapparella Succiamenta, figlia del Capitano Efraim Calzelunghe. Pippi non è che il mio diminutivo, perché papà trovava Pippilotta troppo lungo. – Bene, – disse la maestra – anche noi ti chiameremo semplicemente Pippi. Cominciamo intanto a esaminarti un po' per vedere che cosa sai. Pippi, sai dirmi quanto fa 7 più 5? Pippi la guardò un po' stupita e corrucciata. Poi disse: – Be', se non lo sai tu, non aspettarti che te lo venga a raccontare io!

Gli altri bambini guardarono Pippi scandalizzati, e la maestra le spiegò con pazienza che quello non era il modo di rispondere, a scuola. Non si doveva dare del tu alla maestra, ma bisognava chiamarla "signorina". – Oh, ne sono proprio spiacente – disse Pippi, tutta contrita. – Non lo sapevo, non farò mai più una cosa simile. – Lo spero, – disse la maestra – e voglio anche dirti che 7 più 5 fa 12. – Vedi, dunque, che lo sapevi! – esclamò Pippi. – Ma allora, perché me lo hai chiesto? Oh, ti ho dato ancora del tu! Scusa, eh! – disse Pippi, e si diede una vigorosa tirata d'orecchie. La maestra fece finta di nulla e proseguì: – Allora, Pippi, quanto pensi che faccia 8 più 4? – Così a occhio e croce, 67 – rispose Pippi dopo matura riflessione. – Ma no! – disse la maestra. – 8 più 4 fa 12. – Ah, vecchia mia, ora stiamo proprio passando il segno! – s'indignò Pippi. – Tu stessa hai detto poco fa che 7 più 5 fa 12. Perfino a scuola ci vuole un po' d'ordine! D'altra parte, se ti perdi in simili sciocchezze proprio come una bambina, perché non ti metti buona buona in un angolo a contare per conto tuo e ci lasci in pace, così noi intanto possiamo giocare a nasconderci? Accipicchia, ti ho dato di nuovo del tu! – esclamò. – Ti prego, perdonami, se ti riesce, ancora per questa volta, e ti prometto di ricordarmene davvero, d'ora in poi!

[Astrid Lindgren, (2017/1945). *Pippi Calzelunghe*. Milano: Salani, p. 56]

**Domanda 9:** La maestra inizialmente accoglie Pippi a scuola...

1.  con un atteggiamento di sfida.
2.  con fare brusco e scostante.
3.  con una certa indifferenza.
4.  con estrema gentilezza.

**Domanda 10:** Perché la maestra chiede a Pippi il risultato della somma 7+5?

1.  Vuole verificare le sue conoscenze.
2.  Vuole dimostrare di essere una brava maestra.
3.  Vuole assegnare un voto in matematica.
4.  Non conosce il risultato del calcolo.

**Domanda 11:** Perché Pippi si dà una tirata d'orecchi?

1.  Perché ha sbagliato i calcoli.
2.  Perché non si è rivolta all'insegnante in modo adeguato.
3.  Per farsi venire in mente la risposta giusta.
4.  Per imitare i compagni di classe.

**Domanda 12:** Che cosa promette di fare Pippi in futuro?

1.  Di alzare la mano e aspettare di essere chiamata.
2.  Di rivolgersi alla maestra usando la forma di cortesia.
3.  Di rivolgersi alla maestra chiamandola per nome.
4.  Di chiamare la maestra: "Signora maestra!"

## Ulteriori domande

**Domanda 13:** Qual è la forma corretta del congiuntivo imperfetto, seconda persona plurale, di "scegliere"?

1.  sceglieste
2.  scegliessi
3.  scegliesti
4.  sceglievate

**Domanda 14:** Individuare il termine che appartiene ad un'altra categoria grammaticale.

1.  perpetuo
2.  imperituro
3.  sempre
4.  eterno

**Domanda 15:** Quale forma plurale non è corretta?

1.  asciugamani
2.  francobolli
3.  pescispada
4.  ossibuco

**Domanda 16:** Nella frase "È stata una pessima idea" c'è un aggettivo di grado...

1.  positivo.
2.  comparativo di maggioranza.
3.  comparativo di uguaglianza.
4.  superlativo assoluto.

**Domanda 17:** Quale coppia di parole non inizia con lo stesso suono?

1.  sciare – schivo
2.  scemo – chef
3.  sabbia – sale
4.  scavare – scuola

**Domanda 18:** La parola "lavoro" è...

1.  tronca.
2.  piana.
3.  sdrucciola.
4.  bisdrucciola.

**Domanda 19:** Quale delle seguenti congiunzioni è una congiunzione temporale?

1.  finché
2.  affinché
3.  perché
4.  benché

**Domanda 20:** Il termine generico per indicare *polmoni, reni, cuore, milza* è

1.  muscoli
2.  organi
3.  sostantivi
4.  cellule

**Domanda 21:** In quale delle seguenti frasi ci sono contemporaneamente un complemento di luogo e uno di tempo?

1.  Sono partiti per Bolzano alle dieci.
2.  Sono partiti in treno alle dieci.
3.  A causa di un ritardo non sono potuti partire alle dieci.
4.  Nella città di Bolzano ci sono due stazioni.

**Domanda 22:** Nel periodo "Pur avendo ballato tutta la sera, Maria non si sente stanca." è presente una proposizione...

1.  causale.
2.  modale.
3.  concessiva.
4.  temporale.

**Domanda 23:** L'etimologia...

1.  indaga l'origine e la storia delle parole.
2.  studia la trasformazione dell'uva in vino.
3.  è una branca della filosofia che si occupa del comportamento umano.
4.  studia i dialetti nel loro contesto sociale e storico.

**Domanda 24:** Scegliere la coppia di parole che completa la frase in modo grammaticalmente corretto: "Vi do la mia disponibilità ... far parte del gruppo di esperti, a condizione che voi .... tutta la documentazione".

1.  per ... preparavate
2.  a ... prepariate
3.  di ... preparate
4.  a ... preparaste

**Domanda 25:** Quale parola appartiene a un diverso sottosistema concettuale?

1.  pollice
2.  indice
3.  alluce
4.  mignolo

**Domanda 26:** Stando alle tre affermazioni seguenti, chi è il più veloce? Vincenzo è più veloce di Giovanni. Giovanni è più lento di Fortunato. Fortunato è più lento di Vincenzo.

1.  Giovanni
2.  Vincenzo
3.  Fortunato
4.  Vincenzo e Fortunato

**Domanda 27:** Individuare, tra le alternative proposte, la cifra che completa correttamente la seguente successione: 26 – 52 – 104 – X

1.  208
2.  204
3.  218
4.  212

**Domanda 28:** Capriolo : bosco = ?/? Una sola delle soluzioni completa correttamente l'eguaglianza di rapporti.





1.  pesce : deserto
2.  mare : bosco
3.  capriolo : fungo

4.  pesce : mare

**Domanda 29:** I cani non hanno le pinne. Tutti i bassotti sono cani. Perciò .... ha/hanno le pinne. Quale gruppo di parole completa in modo corretto il ragionamento?

1.  tutti i cani  
2.  nessun bassotto  
3.  tutti i bassotti  
4.  quasi tutti i bassotti

**Domanda 30:** Indicare il diagramma che rappresenta i seguenti concetti: botanica, biologia, scienze naturali.

			
<b>1</b>	<b>2</b>	<b>3</b>	<b>4</b>

1.  Figura 1  
2.  Figura 2  
3.  Figura 3  
4.  Figura 4

## CULTURA LETTERARIA, STORICO-SOCIALE, GEOGRAFICA

**Domanda 31:** Quale tra queste opere è una favola?

1.  I tre moschettieri
2.  Harry Potter
3.  Cenerentola
4.  La volpe e l'uva

**Domanda 32:** "Il piccolo principe" è un'opera di...

1.  Lewis Carroll.
2.  Antoine de Saint-Exupéry.
3.  Joanne K. Rowling.
4.  Louisa May Alcott.

**Domanda 33:** Quale tra questi autori è stato deportato ad Auschwitz e ha pubblicato le sue testimonianze sulle atrocità del lager?

1.  Primo Levi
2.  Luigi Pirandello
3.  Giovanni Verga
4.  Andrea Camilleri

**Domanda 34:** In quale regione sono ambientate le vicende dei "Promessi sposi"?

1.  Molise
2.  Lombardia
3.  Veneto
4.  Sicilia

**Domanda 35:** Come si chiama un celebre ladro del mondo letterario?

1.  Sherlock Holmes
2.  Robinson Crusoe
3.  Harry Potter
4.  Arsène Lupin

**Domanda 36:** L'Italia entrò a fare parte della Triplice Alleanza nel 1882. Quali altri Paesi ne facevano già parte?

1.  Giappone e Corea del Sud
2.  Germania e Austria-Ungheria
3.  Spagna e Portogallo
4.  Francia e Gran Bretagna

**Domanda 37:** Quale è stata la più grande colonia del Portogallo?

1.  Brasile
2.  Mozambico
3.  Messico
4.  Panama



**Domanda 38:** Come si chiamava la piazza principale nell'antica Grecia?

1.  agenda
2.  agorà
3.  colosseo
4.  polis

**Domanda 39:** Tra il 1918 e il 1920 morirono milioni di persone a causa dell'influenza...

1.  giapponese.
2.  spagnola.
3.  americana.
4.  indiana.

**Domanda 40:** In quale città ebbero luogo le conferenze di pace dopo la Prima e la Seconda guerra mondiale?

1.  Londra
2.  Vienna
3.  Berlino
4.  Parigi

**Domanda 41:** Quale tra i seguenti **NON** è un paese membro dell'Unione Europea?

1.  Finlandia
2.  Norvegia
3.  Danimarca
4.  Svezia

**Domanda 42:** In quale mare o oceano si trovano le isole di Capo Verde?

1.  Oceano Pacifico
2.  Mar Mediterraneo
3.  Oceano Atlantico
4.  Mar Caspio

**Domanda 43:** In quale Paese si trova Chernobyl, in cui 35 anni fa avvenne un disastro nucleare?

1.  Polonia
2.  Romania
3.  Ucraina
4.  Turchia

**Domanda 44:** Come si chiama la roccia fusa all'interno della terra?

1.  magma
2.  lava
3.  granito
4.  grafite

**Domanda 45:** Se voglio visitare il museo di Van Gogh, devo recarmi a...

1.  Tallinn.
2.  Copenaghen.
3.  Parigi.
4.  Amsterdam.

## CULTURA MATEMATICO-SCIENTIFICA

**Domanda 46:** Un termometro misura una temperatura di  $-29^{\circ}\text{C}$ . Se la temperatura aumenta di  $6^{\circ}\text{C}$ , quanti gradi indicherà il termometro?

1.   $-35^{\circ}\text{C}$
2.   $-23^{\circ}\text{C}$
3.   $-6^{\circ}\text{C}$
4.   $35^{\circ}\text{C}$

**Domanda 47:** Nel piano reale, per 2 punti passa/passano...

1.  una e una sola circonferenza.
2.  una e una sola retta.
3.  una e una sola ellissi.
4.  infinite rette.

**Domanda 48:** Un libro è formato da 1500 pagine. Anna ha letto  $\frac{6}{25}$  del libro, Lena ha letto  $\frac{7}{20}$  del libro, Claudia ha letto  $\frac{7}{30}$  del libro e Sara ha letto  $\frac{11}{50}$  del libro. Chi ha letto più pagine?

1.  Sara
2.  Anna
3.  Claudia
4.  Lena

**Domanda 49:** Un numero qualsiasi va moltiplicato per 25. Quale dei seguenti metodi di calcolo **NON** è matematicamente ammissibile?

1.  Il numero viene prima moltiplicato per 5, il risultato viene nuovamente moltiplicato per 5.
2.  Il numero viene prima moltiplicato per 100, e il risultato viene diviso per 4.
3.  Il numero viene moltiplicato per 20, il risultato per 5.
4.  Il numero viene moltiplicato per 20, poi moltiplicato per 5, i risultati sommati.

**Domanda 50:** Continuare la seguente successione:  $\frac{81}{1}$ ;  $\frac{27}{6}$ ;  $\frac{9}{36}$ ;  $\frac{3}{216}$ ; ...

1.   $\frac{1}{1296}$
2.   $\frac{3}{6}$
3.   $\frac{7}{10}$
4.   $\frac{17}{20}$

**Domanda 51:** Per trovare il 27% di 350 si deve...

1.  dividere 350 per 27.
2.  dividere 350 per 0,27.
3.  moltiplicare 350 per 27.
4.  moltiplicare 350 per 0, 27.

**Domanda 52:** Se si lasciano cadere contemporaneamente un sasso e una piuma in assenza di aria ...

1.  rimangono fermi.
2.  cade più velocemente il sasso.
3.  cade più velocemente la piuma.
4.  cadono alla stessa velocità.

**Domanda 53:** Quale tra i seguenti **NON** è un oggetto ottico?

1.  periscopio
2.  episcopio
3.  stetoscopio
4.  telescopio

**Domanda 54:** La temperatura di ebollizione dell'acqua è...

1.  100°C.
2.  77°C.
3.  100 K.
4.  77 K.

**Domanda 55:** Cosa succede a un corpo immerso nell'acqua se la spinta idrostatica (forza di Archimede) esercitata dall'acqua è di intensità minore del peso del corpo stesso?

1.  affonda
2.  nuota
3.  galleggia
4.  sale in superficie

**Domanda 56:** Un oggetto accelera...

1.  quando la sua posizione cambia nel tempo.
2.  quando la sua posizione non cambia nel tempo.
3.  quando la sua velocità non cambia nel tempo.
4.  quando la sua velocità cambia nel tempo.

**Domanda 57:** I bronchi...

1.  fanno parte dell'apparato digerente.
2.  fanno parte delle vie aeree inferiori.
3.  fanno parte dell'apparato urinario.
4.  non esistono nella specie umana, ma solo nei pesci.

**Domanda 58:** Nell'essere umano è presente circa il ... di acqua.

1.  99%
2.  70%
3.  20%
4.  10%

**Domanda 59:** Il sesso è determinato al momento della...

1.  fecondazione.
2.  terza settimana di gravidanza.
3.  decima settimana di gravidanza.
4.  nascita.

**Domanda 60:** Qual è il simbolo chimico dell'azoto?

1.  O
2.  H
3.  N
4.  Sn







**Freie Universität Bozen  
Libera Università di Bolzano  
Università Lìedia de Bulsan**

**Laurea magistrale a ciclo unico  
in Scienze della Formazione Primaria**

**Esame di ammissione 2021/2022**

**FASCICOLO DOMANDE  
SEZIONE ITALIANA**

Bressanone, 21 luglio 2021

## COMPETENZA LINGUISTICA E RAGIONAMENTO LOGICO

### Testo n. 1 La conchiglia

Era maggio e, dal momento che ero in pratica disoccupato, avevo proposto a mio fratello di lanciarsi in una di quelle che chiamavamo "le nostre esplorazioni", come ai bei tempi, approfittando di un giorno in cui nemmeno al porto c'era lavoro. Di buon mattino eravamo partiti da Avenue Malick-Sy a bordo di una vecchia corriera diretta alla Petite Côte, una regione a sud di Dakar dove non eravamo mai stati. Dicevano che fosse molto bella. Scendemmo a Joal e cominciammo a camminare fra le sue vecchie case e le palme di cocco, poi per un terreno inaridito su cui crescevano imponenti baobab. Lungo la riva del mare si elevavano strani cumuli bianchi, grandi come palazzi. «È sabbia?» chiese Semba. «Andiamo a vedere.» Non era sabbia, erano montagne di conchiglie ammassate, secolo dopo secolo, dalla gente che era vissuta là. Sembrava che recassero ancora le impronte degli uomini delle età passate, come se su quelle superfici levigate, fra quelle scaglie dure e lisce fosse scivolata tutta la storia del nostro popolo. Provai malinconia a quel pensiero e all'idea del motivo per cui mi trovavo lì, ma mi sforzai di vincerla.

«Non staremo qui tutto il giorno a contare conchiglie, no?» dissi. «Forza, noleggiamo una piroga e raggiungiamo l'isola di Fadiouth, qui davanti.» Attraversammo il breve tratto di mare e raggiungemmo Fadiouth, un'isoletta che poggiava su cumuli sommersi di conchiglie. Facemmo una lunga nuotata, pregammo rivolti verso est, poi rimanemmo sdraiati in cima a una duna sabbiosa a mangiare le patate dolci che avevamo portato da casa e a guardare i pescatori sulla riva, che sistemavano le reti nelle piroghe.

A un tratto Semba vide qualcosa che brillava a poca distanza sulla sabbia e corse a raccoglierla. Era una grossa conchiglia rosa pallido dalla forma tormentata, che si accostò all'orecchio. Poi me la tese. «Prendila, è tua. Portala con te dove andrai, ne avrai bisogno. E se ti senti solo ascoltalà. Fa' conto di sentirci dentro tutte le voci dell'Africa.»

[da Micheletti, P.A. & Moussa Ba, S. (1991). *La promessa di Hamadi*. Milano: De Agostini]

**Domanda 1:** Il protagonista propone al fratello questo viaggio perché...

1.  **non avendo lavoro non sa che fare.**
2.  ama conoscere nuovi posti.
3.  cerca un paesaggio speciale per parlare con il fratello.
4.  vuole andare a vedere i baobab.

**Domanda 2:** Il primo paragrafo del testo...

1.  sottintende una preoccupazione del protagonista.
2.  descrive un'esplorazione.
3.  **racconta un viaggio in corriera.**
4.  descrive un luogo.

**Domanda 3:** Come raggiungono l'isola i ragazzi?

1.  Attraversando a nuoto il breve tratto.
2.  **Con una piccola imbarcazione a noleggio.**
3.  A piedi approfittando della bassa marea.
4.  Con un regolare traghetto di linea.

**Domanda 4:** Che significato ha la conchiglia per Semba?

1.  È un semplice souvenir della gita sull'isola.
2.  **È un portafortuna per il fratello.**
3.  È un oggetto che si può scambiare con denaro.
4.  È un oggetto da lanciare in mare per gioco.

## Testo n. 2 La scuola di Malala

Il giorno in cui tutto era cambiato era martedì 9 ottobre 2012: di certo non il giorno migliore, dato che eravamo sotto esami, anche se io, da vera secchiona, non ero preoccupata quanto le mie compagne. Quella mattina raggiungemmo lo stretto vicolo fangoso vicino a Haji Baba Road con la solita processione di riscio variopinti sputacchianti diesel bruciato, ognuno carico di cinque o sei ragazzine. Da quando i talebani erano saliti al potere la nostra scuola non aveva un'insegna, e la porta in ottone decorato che spiccava nel muro bianco di fronte al deposito di una segheria non lasciava intravedere nulla di ciò che accadeva all'interno.

Per noi ragazze quella porta era come una magica soglia che portava al nostro mondo speciale. Appena entrate, ci toglievamo subito il velo, come quando un soffio di vento spazza via le nuvole per fare posto al sole, poi correvamo su per la scala saltando i gradini due a due. In cima alla scala c'era una terrazza su cui si aprivano le porte delle aule: buttavamo per terra gli zaini nelle classi e ci preparavamo per l'adunata mattutina all'aperto, sull'attenti, con le montagne alle nostre spalle. Una delle alunne gridava: "Assaan bash!", cioè "Riposo!", e noi battevamo i tacchi rispondendo: "Allah!". Poi lei diceva: "Hoo she yar!", "Attenti!", e noi battevamo di nuovo i tacchi ripetendo: "Allah!".

La scuola era stata fondata da mio padre prima che io nascessi, e sul muro sopra le nostre teste sveltava, ancora, in orgogliosi caratteri bianchi e rossi, la scritta KHUSHAL SCHOOL. Avevamo lezione sei mattine alla settimana e io, avendo quindici anni, ero iscritta alla nona classe: durante le lezioni ripetevamo formule chimiche e studiavamo la grammatica urdu, scrivevamo brevi racconti in inglese – che terminavano spesso con morali tipo: "Presto e bene non stanno insieme" – e disegnavamo diagrammi della circolazione sanguigna (la maggior parte delle mie compagne sognava di diventare medico).

[da: Yousafzai, M. con Lamb, C. (2014). *Io sono Malala. La mia battaglia per la libertà e l'istruzione delle donne*. Milano: Garzanti, p. 10]

**Domanda 5:** Perché Malala non è preoccupata il 9 ottobre 2012?

1.  Non le importa della scuola e degli esami.
2.  È molto intelligente, sveglia e perspicace.
3.  Ha un carattere sicuro e determinato.
4.  **Da vera secchiona si è preparata bene per gli esami.**

**Domanda 6:** Come raggiunge la scuola Malala?

1.  **Con un piccolo mezzo a motore.**
2.  Con uno scuolabus elettrico per sole ragazze.
3.  Con un gruppo di compagne a piedi.
4.  In macchina con il padre e le amiche.

**Domanda 7:** Dove conduce la porta d'ottone?

1.  In una scuola pubblica.
2.  **In una scuola segreta.**
3.  In un mondo immaginario.
4.  In una scuola coranica.

**Domanda 8:** Quali materie si studiano nella nona classe?

1.  Chimica, urdu, inglese e disegno.
2.  **Chimica, urdu, inglese e scienze.**
3.  Chimica, urdu, inglese e statistica.
4.  Chimica, matematica, inglese e scienze.



### Testo n. 3 Il primo giorno di scuola di Pippi Calzelunghe

Pippi si buttò a sedere in un banco libero, senza che alcuno glielo avesse assegnato, ma la maestra non sembrò notare la sua maniera sgangherata d'agire. Disse soltanto, in tono estremamente amichevole: – Benvenuta a scuola, piccola Pippi! Spero proprio che tu ti ci troverai bene e imparerai tante belle cose. – Tutto questo è giusto, ma io spero invece di avere le vacanze natalizie che mi spettano – disse Pippi. – I diritti innanzitutto. – Se vorrai esser così cortese da dirmi qual è il tuo vero nome, – disse la maestra – io lo scriverò nel registro di classe. – Mi chiamo Pippilotta Pesanella Tapparella Succiamenta, figlia del Capitano Efraim Calzelunghe. Pippi non è che il mio diminutivo, perché papà trovava Pippilotta troppo lungo. – Bene, – disse la maestra – anche noi ti chiameremo semplicemente Pippi. Cominciamo intanto a esaminarti un po' per vedere che cosa sai. Pippi, sai dirmi quanto fa 7 più 5? Pippi la guardò un po' stupita e corrucciata. Poi disse: – Be', se non lo sai tu, non aspettarti che te lo venga a raccontare io!

Gli altri bambini guardarono Pippi scandalizzati, e la maestra le spiegò con pazienza che quello non era il modo di rispondere, a scuola. Non si doveva dare del tu alla maestra, ma bisognava chiamarla "signorina". – Oh, ne sono proprio spiacente – disse Pippi, tutta contrita. – Non lo sapevo, non farò mai più una cosa simile. – Lo spero, – disse la maestra – e voglio anche dirti che 7 più 5 fa 12. – Vedi, dunque, che lo sapevi! – esclamò Pippi. – Ma allora, perché me lo hai chiesto? Oh, ti ho dato ancora del tu! Scusa, eh! – disse Pippi, e si diede una vigorosa tirata d'orecchie. La maestra fece finta di nulla e proseguì: – Allora, Pippi, quanto pensi che faccia 8 più 4? – Così a occhio e croce, 67 – rispose Pippi dopo matura riflessione. – Ma no! – disse la maestra. – 8 più 4 fa 12. – Ah, vecchia mia, ora stiamo proprio passando il segno! – s'indignò Pippi. – Tu stessa hai detto poco fa che 7 più 5 fa 12. Perfino a scuola ci vuole un po' d'ordine! D'altra parte, se ti perdi in simili sciocchezze proprio come una bambina, perché non ti metti buona buona in un angolo a contare per conto tuo e ci lasci in pace, così noi intanto possiamo giocare a nasconderci? Accipicchia, ti ho dato di nuovo del tu! – esclamò. – Ti prego, perdonami, se ti riesce, ancora per questa volta, e ti prometto di ricordarmene davvero, d'ora in poi!

[Astrid Lindgren, (2017/1945). *Pippi Calzelunghe*. Milano: Salani, p. 56]

**Domanda 9:** La maestra inizialmente accoglie Pippi a scuola...

1.  con un atteggiamento di sfida.
2.  con fare brusco e scostante.
3.  con una certa indifferenza.
4.  **con estrema gentilezza.**

**Domanda 10:** Perché la maestra chiede a Pippi il risultato della somma 7+5?

1.  **Vuole verificare le sue conoscenze.**
2.  Vuole dimostrare di essere una brava maestra.
3.  Vuole assegnare un voto in matematica.
4.  Non conosce il risultato del calcolo.

**Domanda 11:** Perché Pippi si dà una tirata d'orecchi?

1.  Perché ha sbagliato i calcoli.
2.  **Perché non si è rivolta all'insegnante in modo adeguato.**
3.  Per farsi venire in mente la risposta giusta.
4.  Per imitare i compagni di classe.

**Domanda 12:** Che cosa promette di fare Pippi in futuro?

1.  Di alzare la mano e aspettare di essere chiamata.
2.  **Di rivolgersi alla maestra usando la forma di cortesia.**
3.  Di rivolgersi alla maestra chiamandola per nome.
4.  Di chiamare la maestra: "Signora maestra!"

## Ulteriori domande

**Domanda 13:** Qual è la forma corretta del congiuntivo imperfetto, seconda persona plurale, di "scegliere"?

1.  **sceglieste**
2.  scegliessi
3.  scegliesti
4.  sceglievate

**Domanda 14:** Individuare il termine che appartiene ad un'altra categoria grammaticale.

1.  perpetuo
2.  imperituro
3.  **sempre**
4.  eterno

**Domanda 15:** Quale forma plurale non è corretta?

1.  asciugamani
2.  francobolli
3.  pescispada
4.  **ossibuco**

**Domanda 16:** Nella frase "È stata una pessima idea" c'è un aggettivo di grado...

1.  positivo.
2.  comparativo di maggioranza.
3.  comparativo di uguaglianza.
4.  **superlativo assoluto.**

**Domanda 17:** Quale coppia di parole non inizia con lo stesso suono?

1.  **sciare – schivo**
2.  scemo – chef
3.  sabbia – sale
4.  scavare – scuola

**Domanda 18:** La parola "lavoro" è...

1.  tronca.
2.  **piana.**
3.  sdrucchiola.
4.  bisdrucchiola.

**Domanda 19:** Quale delle seguenti congiunzioni è una congiunzione temporale?

1.  **finché**
2.  affinché
3.  perché
4.  benché

**Domanda 20:** Il termine generico per indicare *polmoni, reni, cuore, milza* è

1.  muscoli
2.  **organi**
3.  sostantivi
4.  cellule

**Domanda 21:** In quale delle seguenti frasi ci sono contemporaneamente un complemento di luogo e uno di tempo?

1.  **Sono partiti per Bolzano alle dieci.**
2.  Sono partiti in treno alle dieci.
3.  A causa di un ritardo non sono potuti partire alle dieci.
4.  Nella città di Bolzano ci sono due stazioni.

**Domanda 22:** Nel periodo "Pur avendo ballato tutta la sera, Maria non si sente stanca." è presente una proposizione...

1.  causale.
2.  modale.
3.  **concessiva.**
4.  temporale.

**Domanda 23:** L'etimologia...

1.  **indaga l'origine e la storia delle parole.**
2.  studia la trasformazione dell'uva in vino.
3.  è una branca della filosofia che si occupa del comportamento umano.
4.  studia i dialetti nel loro contesto sociale e storico.

**Domanda 24:** Scegliere la coppia di parole che completa la frase in modo grammaticalmente corretto: "Vi do la mia disponibilità ... far parte del gruppo di esperti, a condizione che voi .... tutta la documentazione".

1.  per ... preparavate
2.  **a ... prepariate**
3.  di ... preparate
4.  a ... preparaste

**Domanda 25:** Quale parola appartiene a un diverso sottosistema concettuale?

1.  pollice
2.  indice
3.  **alluce**
4.  mignolo

**Domanda 26:** Stando alle tre affermazioni seguenti, chi è il più veloce? Vincenzo è più veloce di Giovanni. Giovanni è più lento di Fortunato. Fortunato è più lento di Vincenzo.

1.  Giovanni
2.  **Vincenzo**
3.  Fortunato
4.  Vincenzo e Fortunato

**Domanda 27:** Individuare, tra le alternative proposte, la cifra che completa correttamente la seguente successione: 26 – 52 – 104 – X

1.  **208**
2.  204
3.  218
4.  212

**Domanda 28:** Capriolo : bosco = ?/? Una sola delle soluzioni completa correttamente l'eguaglianza di rapporti.





1.  pesce : deserto
2.  mare : bosco
3.  capriolo : fungo

4. ● **pesce : mare**

**Domanda 29:** I cani non hanno le pinne. Tutti i bassotti sono cani. Perciò .... ha/hanno le pinne. Quale gruppo di parole completa in modo corretto il ragionamento?

1. ○ tutti i cani  
2. ● **nessun bassotto**  
3. ○ tutti i bassotti  
4. ○ quasi tutti i bassotti

**Domanda 30:** Indicare il diagramma che rappresenta i seguenti concetti: botanica, biologia, scienze naturali.

			
<b>1</b>	<b>2</b>	<b>3</b>	<b>4</b>

1. ○ Figura 1  
2. ○ Figura 2  
3. ○ Figura 3  
4. ● **Figura 4**

## CULTURA LETTERARIA, STORICO-SOCIALE, GEOGRAFICA

**Domanda 31:** Quale tra queste opere è una favola?

1.  I tre moschettieri
2.  Harry Potter
3.  Cenerentola
4.  **La volpe e l'uva**

**Domanda 32:** "Il piccolo principe" è un'opera di...

1.  Lewis Carroll.
2.  **Antoine de Saint-Exupéry.**
3.  Joanne K. Rowling.
4.  Louisa May Alcott.

**Domanda 33:** Quale tra questi autori è stato deportato ad Auschwitz e ha pubblicato le sue testimonianze sulle atrocità del lager?

1.  **Primo Levi**
2.  Luigi Pirandello
3.  Giovanni Verga
4.  Andrea Camilleri

**Domanda 34:** In quale regione sono ambientate le vicende dei "Promessi sposi"?

1.  Molise
2.  **Lombardia**
3.  Veneto
4.  Sicilia

**Domanda 35:** Come si chiama un celebre ladro del mondo letterario?

1.  Sherlock Holmes
2.  Robinson Crusoe
3.  Harry Potter
4.  **Arsène Lupin**

**Domanda 36:** L'Italia entrò a fare parte della Triplice Alleanza nel 1882. Quali altri Paesi ne facevano già parte?

1.  Giappone e Corea del Sud
2.  **Germania e Austria-Ungheria**
3.  Spagna e Portogallo
4.  Francia e Gran Bretagna

**Domanda 37:** Quale è stata la più grande colonia del Portogallo?

1.  **Brasile**
2.  Mozambico
3.  Messico
4.  Panama

**Domanda 38:** Come si chiamava la piazza principale nell'antica Grecia?

1.  agenda
2.  **agorà**
3.  colosseo
4.  polis

**Domanda 39:** Tra il 1918 e il 1920 morirono milioni di persone a causa dell'influenza...

1.  giapponese.
2.  **spagnola.**
3.  americana.
4.  indiana.

**Domanda 40:** In quale città ebbero luogo le conferenze di pace dopo la Prima e la Seconda guerra mondiale?

1.  Londra
2.  Vienna
3.  Berlino
4.  **Parigi**

**Domanda 41:** Quale tra i seguenti **NON** è un paese membro dell'Unione Europea?

1.  Finlandia
2.  **Norvegia**
3.  Danimarca
4.  Svezia

**Domanda 42:** In quale mare o oceano si trovano le isole di Capo Verde?

1.  Oceano Pacifico
2.  Mar Mediterraneo
3.  **Oceano Atlantico**
4.  Mar Caspio

**Domanda 43:** In quale Paese si trova Chernobyl, in cui 35 anni fa avvenne un disastro nucleare?

1.  Polonia
2.  Romania
3.  **Ucraina**
4.  Turchia

**Domanda 44:** Come si chiama la roccia fusa all'interno della terra?

1.  **magma**
2.  lava
3.  granito
4.  grafite

**Domanda 45:** Se voglio visitare il museo di Van Gogh, devo recarmi a...

1.  Tallinn.
2.  Copenaghen.
3.  Parigi.
4.  **Amsterdam.**

## CULTURA MATEMATICO-SCIENTIFICA

**Domanda 46:** Un termometro misura una temperatura di  $-29^{\circ}\text{C}$ . Se la temperatura aumenta di  $6^{\circ}\text{C}$ , quanti gradi indicherà il termometro?

- $-35^{\circ}\text{C}$
- $-23^{\circ}\text{C}$
- $-6^{\circ}\text{C}$
- $35^{\circ}\text{C}$

**Domanda 47:** Nel piano reale, per 2 punti passa/passano...

- una e una sola circonferenza.
- una e una sola retta.**
- una e una sola ellissi.
- infinite rette.

**Domanda 48:** Un libro è formato da 1500 pagine. Anna ha letto  $\frac{6}{25}$  del libro, Lena ha letto  $\frac{7}{20}$  del libro, Claudia ha letto  $\frac{7}{30}$  del libro e Sara ha letto  $\frac{11}{50}$  del libro. Chi ha letto più pagine?

- Sara
- Anna
- Claudia
- Lena**

**Domanda 49:** Un numero qualsiasi va moltiplicato per 25. Quale dei seguenti metodi di calcolo **NON** è matematicamente ammissibile?

- Il numero viene prima moltiplicato per 5, il risultato viene nuovamente moltiplicato per 5.
- Il numero viene prima moltiplicato per 100, e il risultato viene diviso per 4.
- Il numero viene moltiplicato per 20, il risultato per 5.**
- Il numero viene moltiplicato per 20, poi moltiplicato per 5, i risultati sommati.

**Domanda 50:** Continuare la seguente successione:  $\frac{81}{1}$ ;  $\frac{27}{6}$ ;  $\frac{9}{36}$ ;  $\frac{3}{216}$ ; ...

- $\frac{1}{1296}$**
- $\frac{3}{6}$
- $\frac{7}{10}$
- $\frac{17}{20}$

**Domanda 51:** Per trovare il 27% di 350 si deve...

- dividere 350 per 27.
- dividere 350 per 0,27.
- moltiplicare 350 per 27.
- moltiplicare 350 per 0, 27.**

**Domanda 52:** Se si lasciano cadere contemporaneamente un sasso e una piuma in assenza di aria ...

- rimangono fermi.
- cade più velocemente il sasso.
- cade più velocemente la piuma.
- cadono alla stessa velocità.**

**Domanda 53:** Quale tra i seguenti **NON** è un oggetto ottico?

1.  periscopio
2.  episcopio
3.  **stetoscopio**
4.  telescopio

**Domanda 54:** La temperatura di ebollizione dell'acqua è...

1.  **100°C.**
2.  77°C.
3.  100 K.
4.  77 K.

**Domanda 55:** Cosa succede a un corpo immerso nell'acqua se la spinta idrostatica (forza di Archimede) esercitata dall'acqua è di intensità minore del peso del corpo stesso?

1.  **affonda**
2.  nuota
3.  galleggia
4.  sale in superficie

**Domanda 56:** Un oggetto accelera...

1.  quando la sua posizione cambia nel tempo.
2.  quando la sua posizione non cambia nel tempo.
3.  quando la sua velocità non cambia nel tempo.
4.  **quando la sua velocità cambia nel tempo.**

**Domanda 57:** I bronchi...

1.  fanno parte dell'apparato digerente.
2.  **fanno parte delle vie aeree inferiori.**
3.  fanno parte dell'apparato urinario.
4.  non esistono nella specie umana, ma solo nei pesci.

**Domanda 58:** Nell'essere umano è presente circa il ... di acqua.

1.  99%
2.  **70%**
3.  20%
4.  10%

**Domanda 59:** Il sesso è determinato al momento della...

1.  **fecondazione.**
2.  terza settimana di gravidanza.
3.  decima settimana di gravidanza.
4.  nascita.

**Domanda 60:** Qual è il simbolo chimico dell'azoto?

1.  O
2.  H
3.  **N**
4.  Sn





